

М. А. Иванова

МАТЕМАТИКА

Обучающие и контрольные ТЕСТЫ



#эксмодетство
Москва
2024

УДК 373.3:51
ББК 22.1я71
И21

Иванова, Марина Александровна.

И21 Математика. Обучающие и контрольные тесты. 1 класс / М. А. Иванова. — Москва : Эксмо, 2024. — 48 с. : ил. — (Оцени свои знания! Тесты для начальной школы).

ISBN 978-5-04-191871-2

В пособие включены тесты двух типов — тренировочные и проверочные. Тренировочные тесты позволяют ученикам не только обнаружить допущенные ошибки, но и определить их причину. Для этого в пособии даны подсказки, ориентирующие на выбор нужного правила и дающие прямые указания на верный способ решения. Проверочные тесты помогают выяснить степень усвоения материала по всем основным разделам математики за курс 1 класса.

Тесты разработаны с учётом всех требований ФГОС начального общего образования.

УДК 373.3:51
ББК 22.1я71

ISBN 978-5-04-191871-2

© Иванова М.А., 2024
© Оформление. ООО «Издательство «Эксмо», 2024

ВВЕДЕНИЕ



Дорогие друзья!

Выполняя задания этого пособия, вы научитесь быстро и правильно решать примеры и задачи.

В пособии вы встретите тесты двух видов. В тренировочных тестах номер своего ответа нужно вписывать в кружок ○, а потом найти ответ на задание в конце книги и вписать его в квадратные клеточки □. Сравните свой ответ и ответ, данный в пособии, и определите, как ваши знания оценивает Помощник. Если ваш ответ окажется верным, Помощник будет доволен — . Обведите его и сразу переходите к следующему заданию. Если же вы допустите ошибку, Помощник расстроится — . Его тоже нужно обвести — таковы правила! Затем Помощник предложит вам подсказку: .

Обязательно внимательно прочитайте её и запомните объяснение Помощника!

Проверочные тесты помогут вам самостоятельно оценить свои знания. Ответы на них надо сначала записать после задания в кружок ○, а потом найти правильный ответ в конце пособия и вписать его в клеточку □. Сравните свой ответ и ответ из пособия. Если вы всё сделали правильно, переходите к следующему заданию. Если были допущены ошибки, то выполните задания плохо усвоенной темы ещё раз.

Если в заданиях предполагается больше одного ответа, то свои ответы нужно вписать в такой значок . Ответы, данные в конце книги, впишите в вытянутую клеточку .

Автор и Помощник желают вам успехов!

ЧИСЛА ОТ 1 ДО 5. НУМЕРАЦИЯ. ЗНАКИ СРАВНЕНИЯ

Тренировочные тесты

1 Укажи номер строчки, где записано число, которое больше 3, но меньше 5.

- 1) 4
- 2) 8
- 3) 6



Больше будет то число, которое при счёте называют после указанного числа, а меньше то, которое при счёте называют перед указанным числом.

2 Укажи номер строчки, в которой записаны знаки арифметических действий.



- 1) 6, 7, 8.
- 2) +, -, =.
- 3) Точка, отрезок, круг.



Знаки арифметических действий — это обозначения, с помощью которых записывают действия над числами.

3 Укажи номера строчек, в которых записаны верные утверждения о числе 4.

- 1) 4 — это 3 и 1.
- 2) 4 больше, чем 5.
- 3) $4 - 1 = 3$.



Число 4 на одну единицу больше числа 3. При счёте число 4 называют после числа 3.

4 Укажи номера строчек, в которых записано, как можно получить число 5.

- 1) $5 = 4 + 1$
- 2) $5 = 2 + 3$
- 3) $5 = 1 + 3$



Вспомни состав числа 5.

5	1	2	3	4
	4	3	2	1

5 Какую фигуру можно продолжить в обе стороны?

- 1) Отрезок
- 2) Прямую
- 3) Луч

